

1. Berechne !

a) 10 % von 380 €

b) 25% von 4000m

c) 80% von 16 kg

d) 34% von 5m

e) 1 % von 20g

f) 0,35% von 18 km ( in m)

2. Welche Einkünfte hat Familie M., wenn 3,8% davon 142 € sind ?

3. Wie rechnet man ohne TR ?

$$12,305 - 4,8$$

$$4,214 \cdot 3,8$$

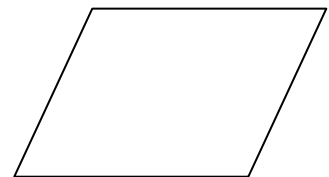
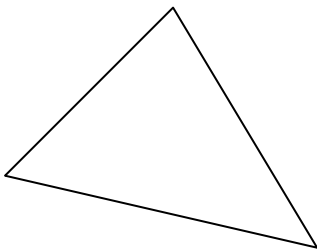
$$1,4 : 8 =$$

$$1239$$

$$- 456$$

$$- 309$$

4. Ermittle den Flächeninhalt dieser Figuren! ( Messen erwünscht !)




5. Welche Höhe hat ein Turm der im Maßstab 1 : 150 dargestellt ist und dessen Modell 12 cm hoch ist?

6. Ein Viertelkreis hat einen Radius von 12m. Berechne seinen Umfang und seine Fläche!

7. Wie viel Wasser passt in einen 20m langen Gartenschlauch mit einem Innendurchmesser von 1,6 cm?

9. Konstruiere die Tangente durch den Punkt P an diesen Kreis !



x  
P