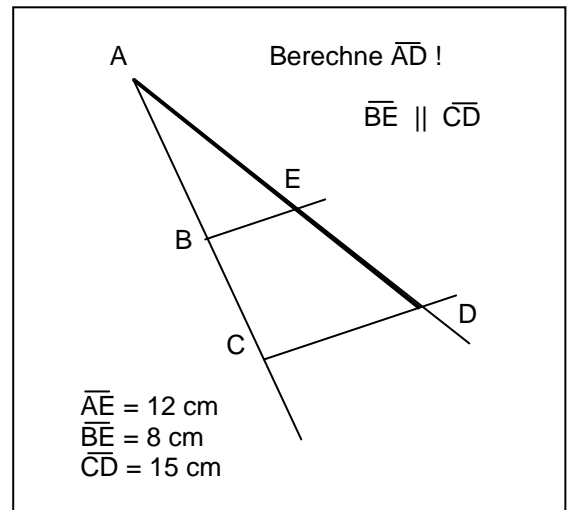
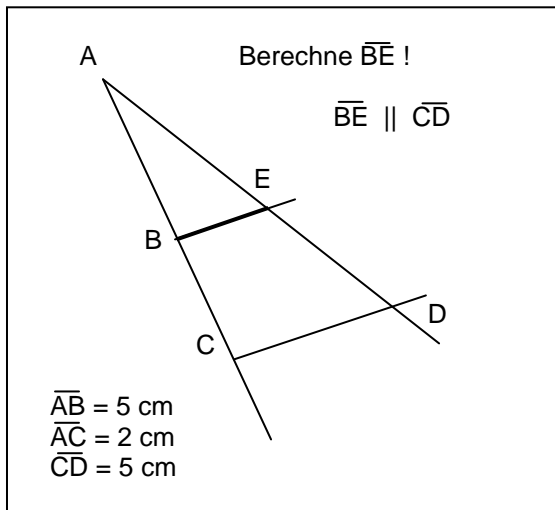
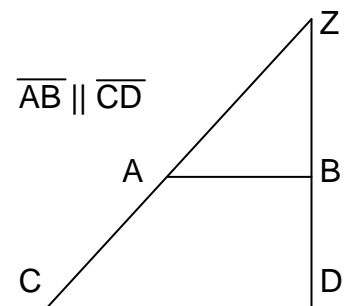


Berechne die geforderten Strecken...

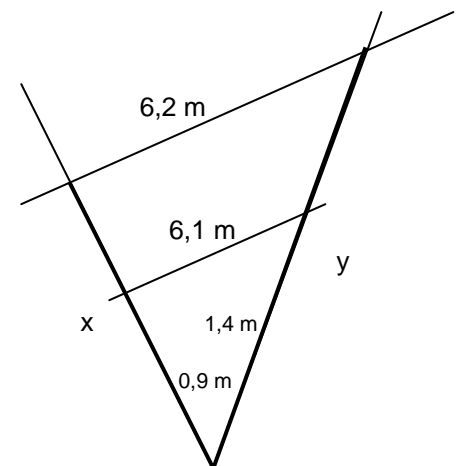
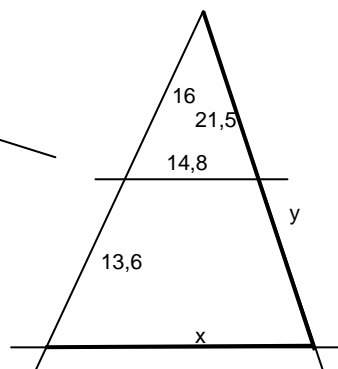
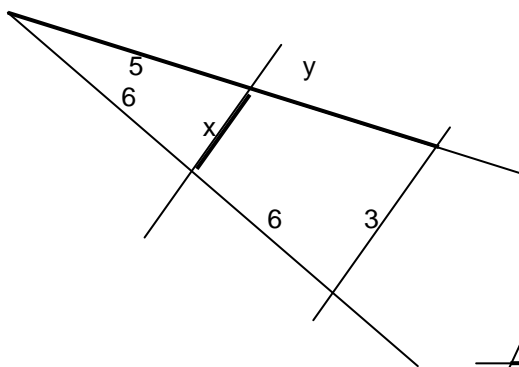


Erstelle jeweils a) bis e) eine bemaßte Skizze! Ergänze die fehlenden Größen der Tabelle durch Rechnung!

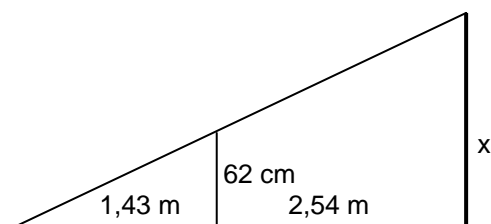
	a)	b)	c)	d)	e)
$\overline{ZA}$	4 cm		7,24 m	71 cm	
$\overline{ZB}$	6 cm	11 cm		61 cm	
$\overline{ZC}$	9 cm	17 cm	13,05 m		1,2 m
$\overline{ZD}$			5,85 m		1,4 m
$\overline{AB}$	2,5 cm	5 cm		52 cm	0,3 m
$\overline{CD}$		8 cm	7,83 m	60 cm	0,8 m



Bemaße vollständig durch Rechnung!



Berechne x ! Achte auf die Einheiten!



Berechne x und y !

