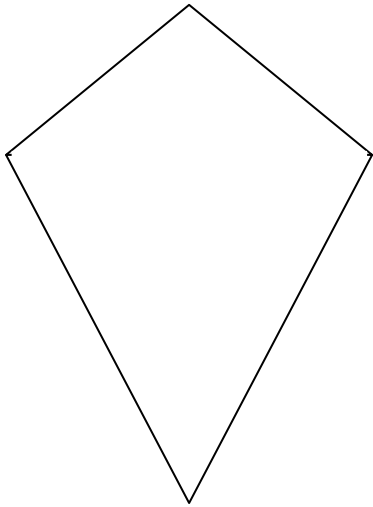
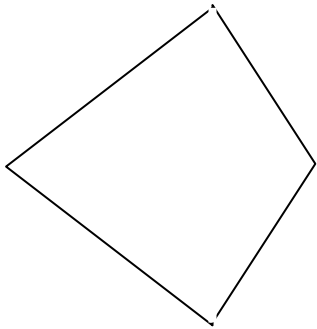


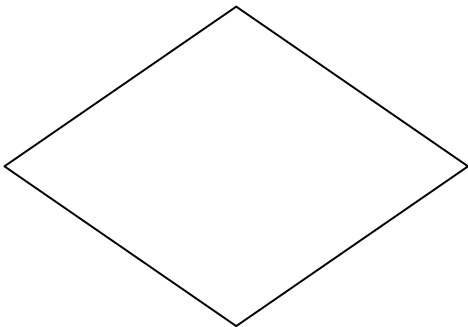
Zeichne die Diagonalen ein!
Miss die benötigten Größen, um den Umfang und die Fläche zu errechnen!



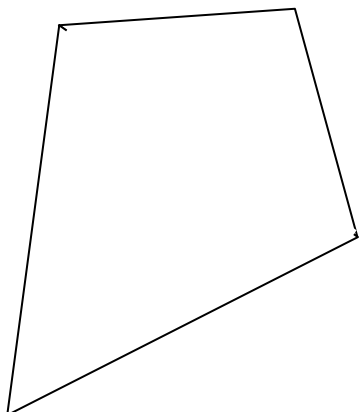
Kennlinien	Umfang	Fläche



Kennlinien	Umfang	Fläche



Kennlinien	Umfang	Fläche



Kennlinien	Umfang	Fläche