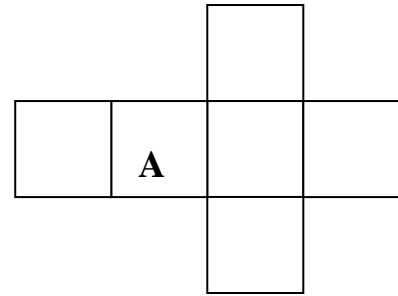
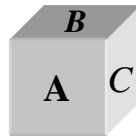


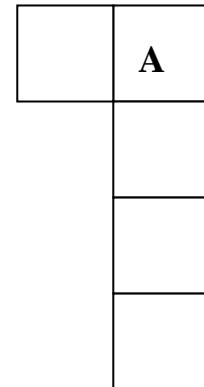
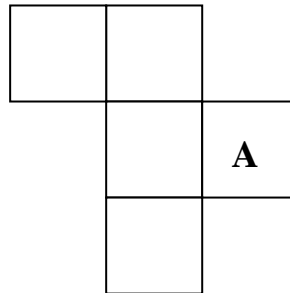
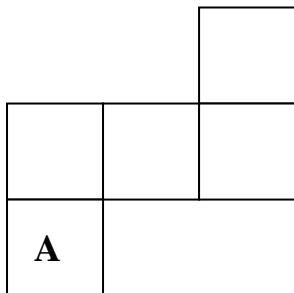
Was sind Körpernetze?

Das Netz des Würfels



Unten ist ein E drauf und hinten ein F!
Wo ist das D versteckt?

Auch das sind angefangene Würfelnetze...
Vervollständige!



Ergänze die fehlenden Flächen in den Netzen und färbe die entsprechenden Flächen gleich!

