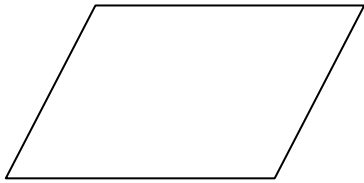
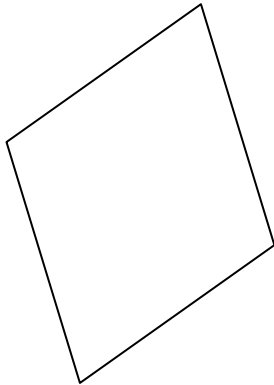


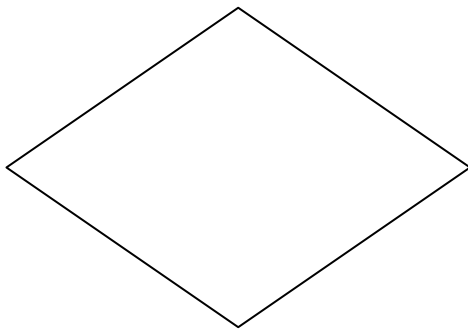
Miss eine Seite und ihre dazugehörige Höhe, die Du vorher eingezeichnet hast!



Kennlinien	Umfang	Fläche
a =		
b =		
ha =		
$\alpha =$		
$\beta =$		

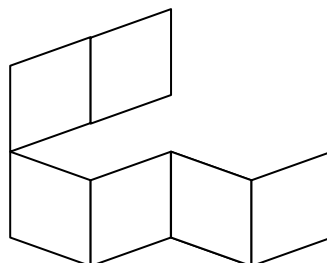


Kennlinien	Umfang	Fläche
a =		
b =		
ha =		
$\alpha =$		
$\beta =$		



Kennlinien	Umfang	Fläche
a =		
b =		
ha =		
$\alpha =$		
$\beta =$		

Kennlinien	Umfang	Fläche
a = 5cm		
b =		
ha = 4cm		
$\alpha = 70^\circ$		
$\beta =$		



Eckbank?



Würfelstapel?