

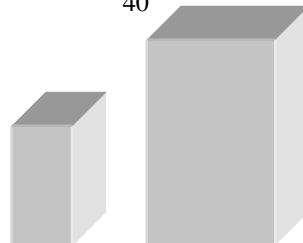
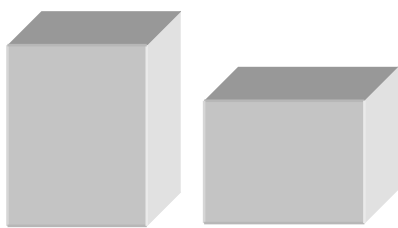
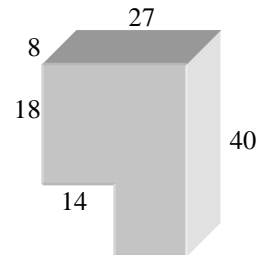
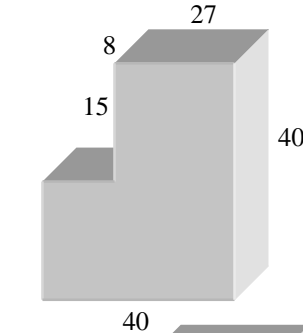
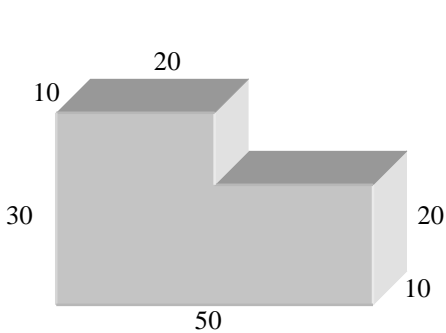
Quader sind Körper mit Länge, Breite und Höhe!
Ihr Volumen berechnet man mit $V =$

Körper aus Quadern!

Stelle Gleichheit der Maße her! Berechne dann das Volumen dieser Quader!

a	3cm	6cm	43cm	150mm
b	4cm	6cm	0,5m	1m
c	8cm	1dm	30cm	0,24m
Rechnung				
V				

Teile diese Körper in Quader! Notiere ihre Einzelmaße! Berechne dann das Volumen!



Körper1	Körper2
Gesamtvolumen:	

Körper1	Körper2
Gesamtvolumen:	

Körper1	Körper2
Gesamtvolumen:	

Zum Weiterüben! Alle Maße in mm!

www.mathe-lernen.net

