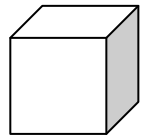
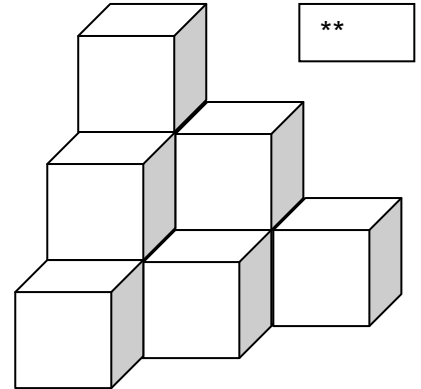
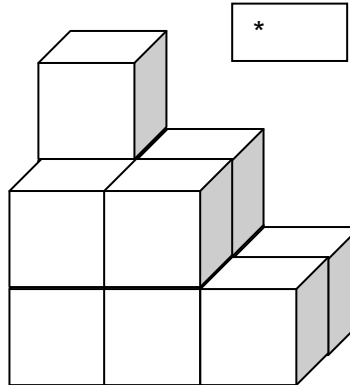
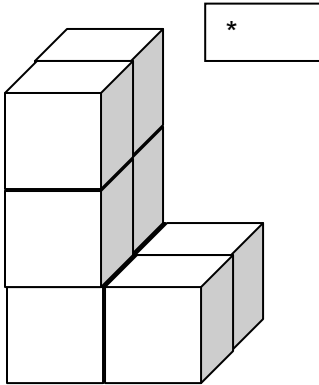


$V = 1 \text{ cm}^3$



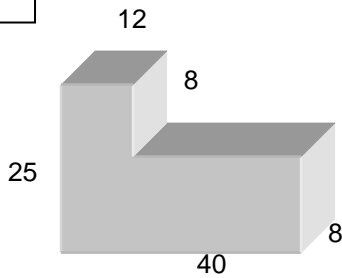
$E|F|K =$

1. Gib jeweils die Anzahl der Würfel an!
 2. Zeichne je 3 Ansichten(O|V|R) dieser Würfelbauten!
 2. Notiere die Oberfläche!
- Achtung! Nur die Anzahl der nach außen sichtbaren Einzelflächen

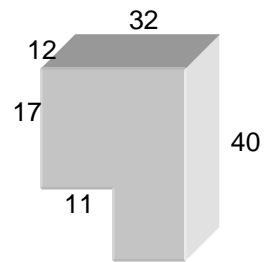


1. Fertige eine Skizze des Netzes dieses Körpers.
2. Bemaße das Netz vollständig.
3. Berechne die Einzelflächen A_1 bis A_7
4. Ermittle die Gesamtoberfläche.

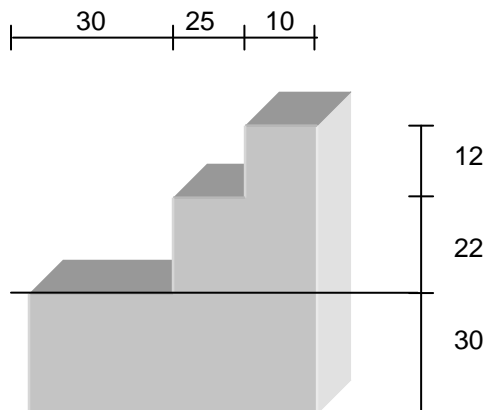
*



*



**



Tiefe : 10

***Zusatz!

