

Berechne im Kopf!

$$0,8 \cdot 0,9 = \quad 1,4 \cdot 100 = \quad 1,8 : 6 =$$

$$7,2 - 1,6 = \quad 4,2 + 1,3 = \quad 2,1 - 3,9 =$$

Ergänze die fehlende Bruchschreibweise! (Bruchstrich oder Komma...)

$$\frac{12}{1000} = \quad 0,37 = \quad 3\frac{2}{10} =$$


$$\frac{308}{100} = \quad 14,851 = \quad 1\frac{1}{100} =$$

Im Supermarkt kosten 7 Kilogramm
Birnen 13,30 €.

Wie teuer sind 5 Kilogramm?

Zwei Bagger heben einen Graben
in genau 6 Stunden aus.

Wie lange benötigen drei Bagger?




Berechne schriftlich!

$$163 : 4$$

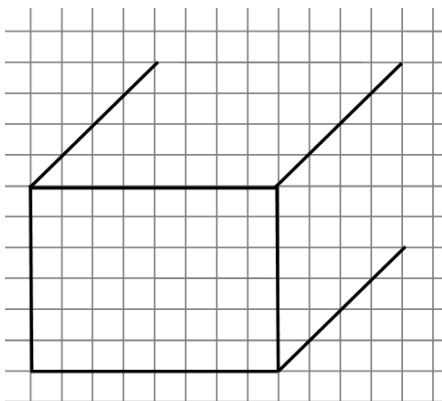
$$23,5 + 50,481$$

$$3,6 \cdot 14,8$$



Ergänze das Schrägbild des Quaders!

Zeichne einen Würfel mit 3cm Kantenlänge im Schrägbild!



Wie viele Liter passen in
ein Aquarium mit 5dm
Länge, 40cm Breite und
3dm Höhe?