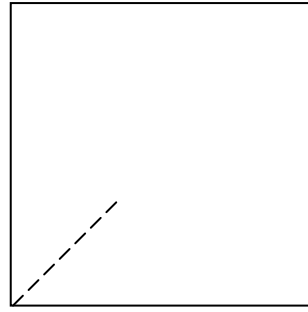

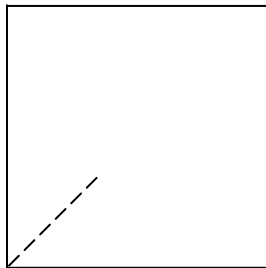
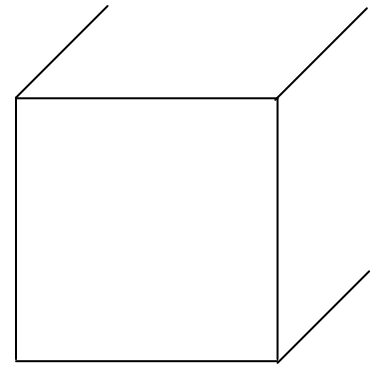
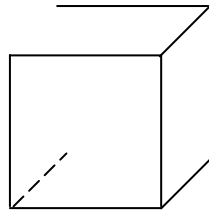
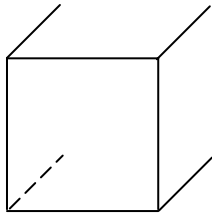


Würfel haben ____ Ecken, ____ Kanten
und werden durch ____ Flächen begrenzt.

Die gegenüberliegenden Flächen sind
_____ zueinander. Benachbarte
Flächen stehen _____ aufeinander.



Hier fehlen doch Linien zum vollständigen Schrägbild. Ergänze mit der richtigen Linienart!



Aus wie vielen Würfeln bestehen diese Bauten?

www.mathe-lernen.net

